



GUÍA DE APRENDIZAJE N° 5
 ¿Cuánto ya sé? “Ubicación Geográfica”

NOMBRE:	CURSO: 4° año
OBJETIVO: Ubicar lugares en un mapa, utilizando coordenadas geográficas como referencian (paralelos y meridianos).	

CON APOYO DEL APODERADO DURANTE EL PERIOD O DE LA SEMANA DEL 06 DE ABRIL

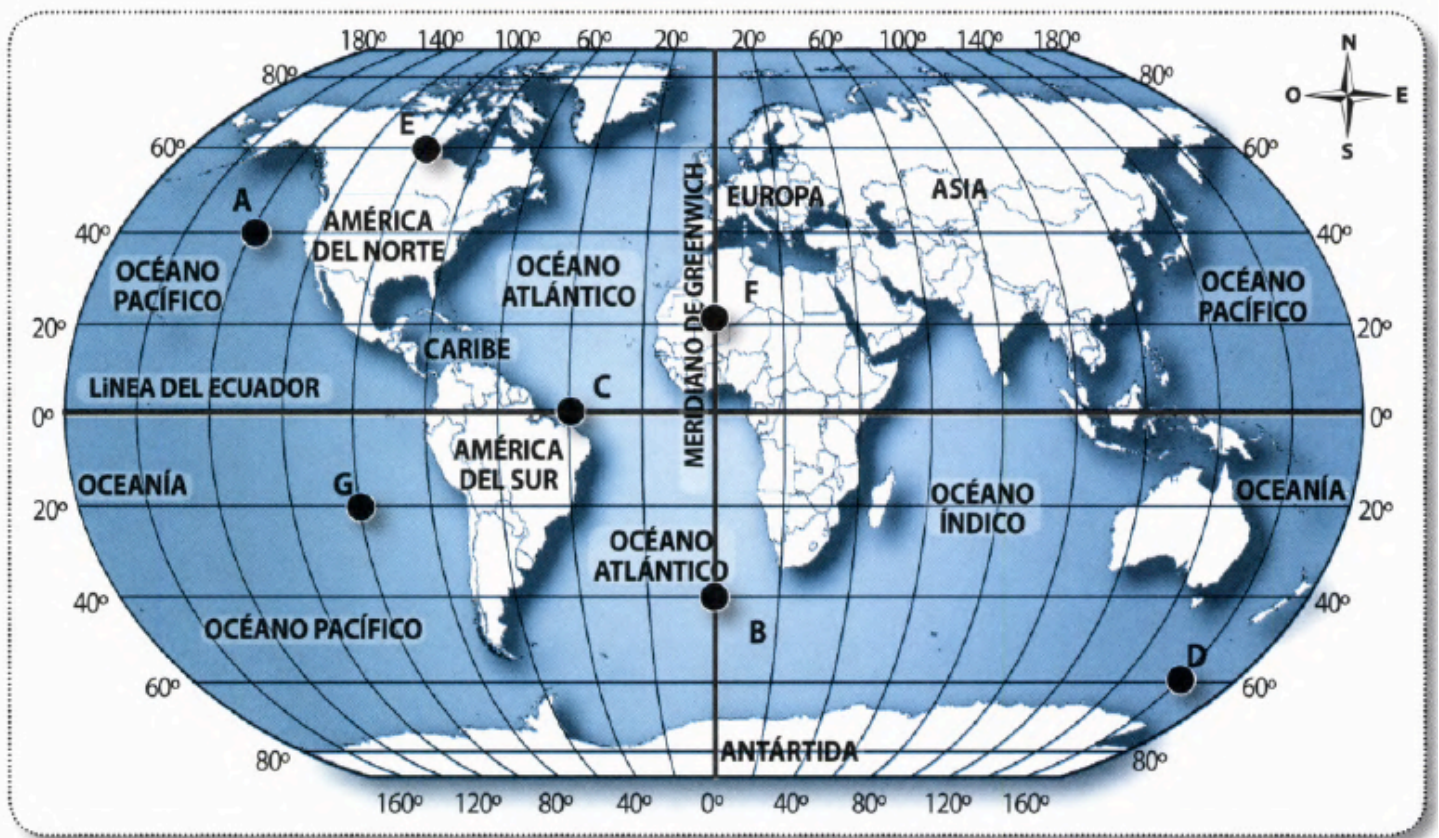
Instrucciones:

- En esta clase REFORZAREMOS la latitud y la longitud. No es necesario que imprimas la guía, pero sí es importante que registres las respuestas en tu cuaderno.

1. En el siguiente mapa del mundo determina las coordenadas geográficas de los puntos: A – B – C – D – E – F – G

Observa el ejemplo:

El punto A se ubica en las coordenadas **40° latitud Norte y 140° longitud Oeste.**



Punto A	
Punto B	
Punto C	
Punto D	
Punto E	
Punto F	
Punto G	






La abuela Fiorella es una mujer que ha viajado mucho por el mundo y adora conocer otras culturas. Pero es muy despistada y ha extraviado gran parte de su equipaje. **Ella necesita saber específicamente en qué continente las dejó e ir a buscarlas.**

¡Para eso necesita de tu ayuda, solo necesitas las coordenadas geográficas!



2. Identifica marcando con una X en el mapa las coordenadas geográficas de los siguientes objetos perdidos por la abuela Fiorella. Luego anota el continente donde los extravió.



Objeto perdido	Coordenadas geográficas	Continente donde se encuentra
Anteojos 	60°latitud Norte y 40° longitud Este.	
Pantuflas 	0°latitud y 60° longitud Oeste.	
Maleta 	20°latitud Sur y 140° longitud Este.	
Loro 	40°latitud Norte y 100° longitud Este.	
Pasaporte 	20°latitud Norte y 0° longitud.	

AUTOEVALUACION

Evalúa tu APRENDIZAJE ayudándote con la siguiente tabla.

INDICADORES	L	ML	PL
Distingo la Latitud de la Longitud			
Utilicé la red de coordenadas geografías para ubicar lugares sobre mapas			
Ubiqué espacialmente el continente americano.			
Interpreté mapas para comprender su información.			
Consulté a un adulto cuando se me presentaron dudas.			






PAUTA DE CORRECCION

1)

Punto A	40°latitud Norte y 140° longitud Oeste.
Punto B	40°latitud Sur y 0° longitud.
Punto C	0°latitud Norte y 40° longitud Oeste.
Punto D	60°latitud Sur y 160° longitud Este.
Punto E	60°latitud Norte y 100° longitud Oeste.
Punto F	20°latitud Norte y 0° longitud
Punto G	20°latitud Sur y 100° longitud Oeste.

2)



Objeto perdido	Coordenadas geográficas	Continente donde se encuentra
Anteojos 	60°latitud Norte y 40° longitud Este.	Europa
Pantufas 	0°latitud y 60° longitud Oeste.	América
Maleta 	20°latitud Sur y 140° longitud Este.	Oceanía
Loro 	40°latitud Norte y 100° longitud Este.	Asia
Pasaporte 	20°latitud Norte y 0° longitud.	Africa